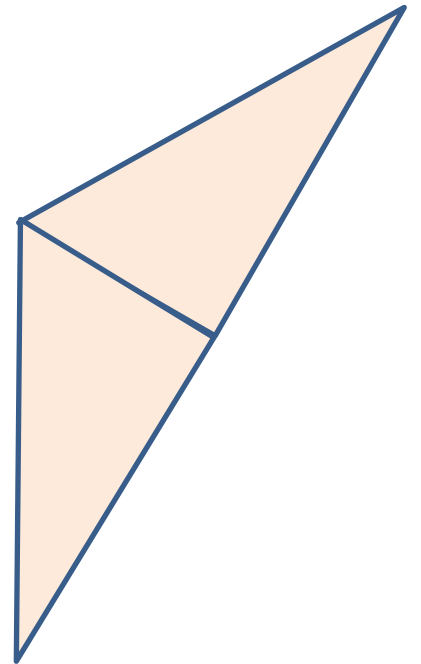
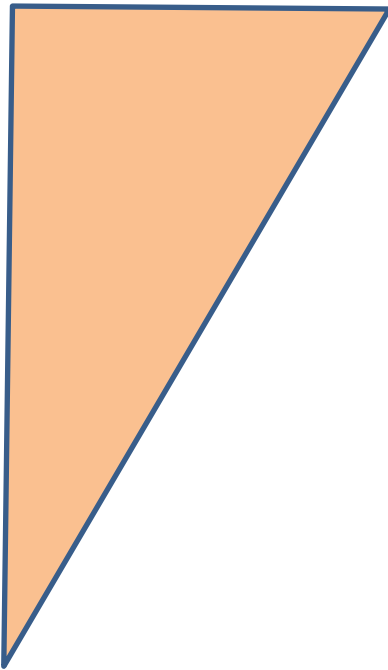
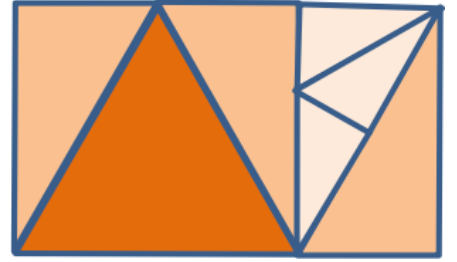


Le puzzle aux sept triangles (1)

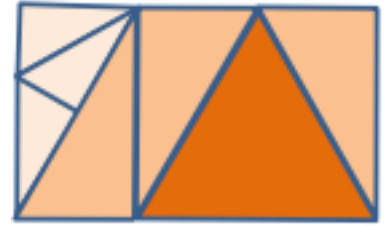
La figure ci-contre représente le rectangle construit à partir du puzzle aux sept triangles.

En utilisant uniquement la règle non graduée, complète la figure commencée ci-dessous pour obtenir un dessin du rectangle.



Le puzzle aux sept triangles (2)

La figure ci-contre représente le rectangle construit à partir du puzzle aux sept triangles.



En utilisant uniquement la règle non graduée, complétez la figure commencée ci-dessous pour obtenir un dessin du rectangle.

